

センター第4問満点【第1講】

はしがき

この講座はセンター試験の第4問で満点を取れるように計画されたものです。これは、某大手予備校の講師時代に「センター英語テスト演習」という講座を担当した時に、その授業で、試験的に90分×8回、第3問の形式ばかりやらせたところ、最後には、ほぼ全員が正解できるまでになったことにヒントを得て作成したものです。この講座では第4問のグラフ問題を徹底的に研究していきましょう！同じ形式の問題をたくさんこなすことで、解き方のコツがわかってきます。この講座で解き方のコツや着眼点を学び、受講し終わったら、その学んだことを使ってどんどん過去問を解いていってください。

さて、この講座の受け方ですが、最大の効果を上げるために必ず予習はしてきて下さい。そして、授業が終わったら、その日に習ったことを思い出しながら次のレッスンの予習をして下さい。その時に必ずしなければならないことがあります。それは『必ずヒントを探す』ということです。そのヒントとは、



- * 段落ごとに分けて考えよ。
- * 必ず、該当箇所を探し、○とか×を判断せよ。
- * 4段落構成のパターンでは、第1段落は実験目的、第2段落は実験方法や実験対象、第3段落は実験結果（図表）、第4段落は結果分析に、大抵なっている。

です。以上の項目に注意して予習してきて下さい。そうすれば必ず満点を取れるようになります！一緒に頑張っていきましょう！！

担当 : 坂木俊信

<句と節の働き>

	(名)	< 形 >	[副]	
句	to V··	to V··	to V··	不定詞
	Ving··			動名詞
		Ving ·· Vpp ··	Ving ·· 【分構】 Vpp ·· 【分構】	現在分詞 過去分詞
		前置詞＋名詞	前置詞＋名詞	前置詞句
節	what (S') V'	関代 (S') V' 関副 S' V' 前＋関代 S' V'		関係詞節
	that S' V' whether S' V' if S' V'		that S' V' whether S' V' if S' V' その他の従接 S' V'	従属接続詞節
	疑問詞 (S') V'			間接疑問文

 S, O, C, 目, 同格
  名詞を修飾
  名詞以外を修飾

名詞 (句・節) の記号 → ()
 形容詞 (句・節) の記号 → < >
 副詞 (句・節) の記号 → []

第1講

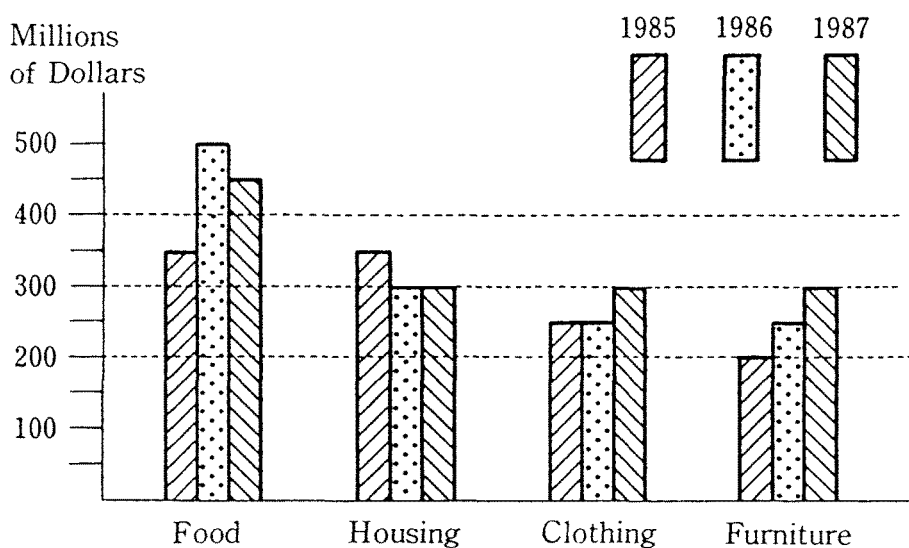
【1】与えられた文と棒グラフを参考にして、次の問い(問1～4)の答え

(1) ～ (4))として最も適切なものを、それぞれ以下の①～④の

うちから一つずつ選べ。<1990年 追試験>

(配点 20)

Here is a graph showing the amount of money spent on four items in a small country over the three-year period 1985-1987.



問1 Which item shows a steady increase over the three years?

① Clothing.

② Food.

③ Furniture.

④ Housing.

満点の心得

- 対立項に注意すべし。(増か減か?!)

問2 In total, how much more was spent in 1987 than in the previous

year?

- ① Fifty million dollars.
- ② One hundred million dollars.
- ③ One hundred and fifty million dollars.
- ④ Two hundred million dollars.

満点の心得

- 対応箇所をチェックすべし。

問3 What can be said about the amount spent on furniture in 1987?

3

- ① It was equal to that spent on food in 1986.
- ② It was less than that spent on furniture in 1985.
- ③ It was more than that spent on clothing in the same year.
- ④ It was the same as that spent on housing in 1986.

満点の心得

- 対立項に注意すべし。(多か少か?!)

問4 Which of the following statements is true?

- ① In 1986 three times as much money was spent on food as on clothing or furniture.
- ② People spent more on housing and clothing in 1987 than on food and furniture in the same year.
- ③ The amount spent on housing in 1986 fell by a hundred million dollars compared with that in 1985.
- ④ While sales of food increased from 1985 to 1986, the same cannot be said about such sales from 1986 to 1987.

満点の心得

- 数字を書き込むべし。


【2】 次の文章とグラフを参考にして、以下の問い(A・B)に答えよ。

<1996年 追試験>

(配点 18)

The graph below shows the number of hours per day people spend on various leisure time activities in four countries (A, B, C and D). People in countries A and B have fewer leisure hours than people in countries C and D. The amount of time spent watching television is the greatest in country D, and it is five times greater than in country A. Differences in time spent reading are generally small, except in country C.

Hours Spent on Leisure Time Activities in Four Countries



センター第4問満点【第1講】

A 次の問い(問1・問2)の空欄(・)に入れるのに最も適当なものを、
それぞれ以下の①～④のうちから一つずつ選べ。

問1 From left to right, the bars in the graph represent countries

, respectively.

① C, D, A and B

② C, D, B and A

③ D, C, A and B

④ D, C, B and A

問2 People in countries spend more of their leisure time on
social activities and watching television than people in the other two.

① A and B

② A and D

③ B and C

④ B and D

センター第4問満点【第1講】

B グラフおよび本文の内容と合っているものを、次の①～④のうちから一つ
選べ。

- ① The amount of time spent on educational activities is the least in country C.
- ② The amount of time spent on social activities in country A is less than one third of that in country C.
- ③ The amount of time spent resting is greater in countries A and B than in countries C and D.
- ④ The amount of time spent watching television and listening to the radio is the same in the four countries.